

Nationalpark Harz

Wildnis, Ranger und viel mehr

Der Nationalpark Harz ist fast 25.000 Hektar groß, das entspricht fast 40.000 Fußballfeldern. Hier finden zahlreiche Tiere und Pflanzen ein Zuhause. Die Menschen haben beschlossen, sich hier nicht weiter einzumischen. Ganz nach dem Motto aller Nationalparke. Dieses lautet:

1	2	3	4	5

		T		
6	7	8	9	10

11	12	13	14

		S	S		
15	16	17	18	19	20

Die Internetseite www.nationalpark-harz.de und die Karte auf der nächsten Seite helfen Dir bei den Rätselfragen weiter. Wenn Du alles vollständig ausfüllst und die Buchstaben einträgst, kannst Du das Lösungswort knacken. So erfährst Du auch Interessantes über den Nationalpark. Los geht's!

waagerecht

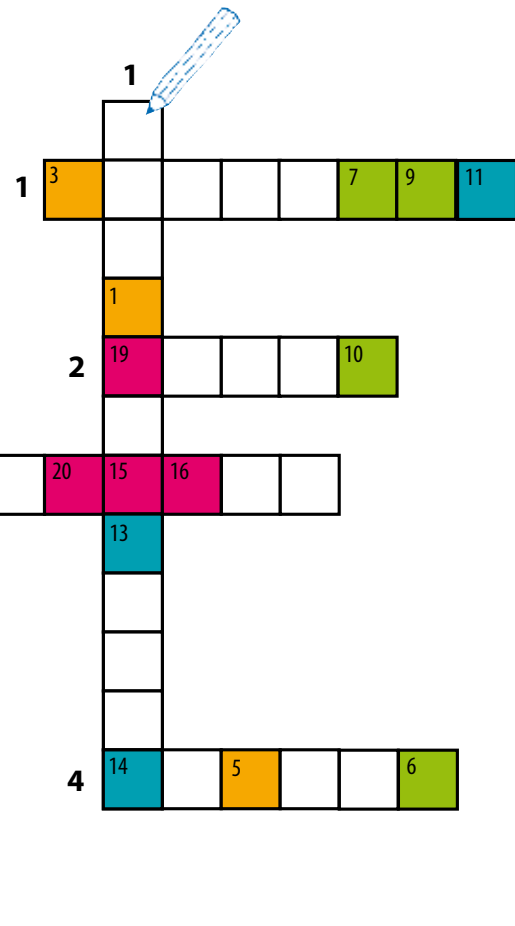
1. Der WaldWandelWeg liegt in der Nähe von ?
2. Um einen Luchs in freier Wildbahn zu sehen, braucht man wirklich Glück. In der Nähe welchen Flusses liegt das Luchs-Gehege des Nationalparks?
3. Du willst mit Deiner Schulklasse in den Harz fahren. Wo liegt das Jugendwaldheim, in dem Du unterkommen könntest?
4. Welche Himmelsrichtung musst Du einschlagen, um von Schierke aus auf den Brocken zu wandern?

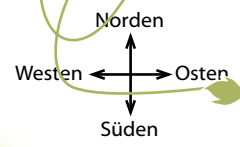
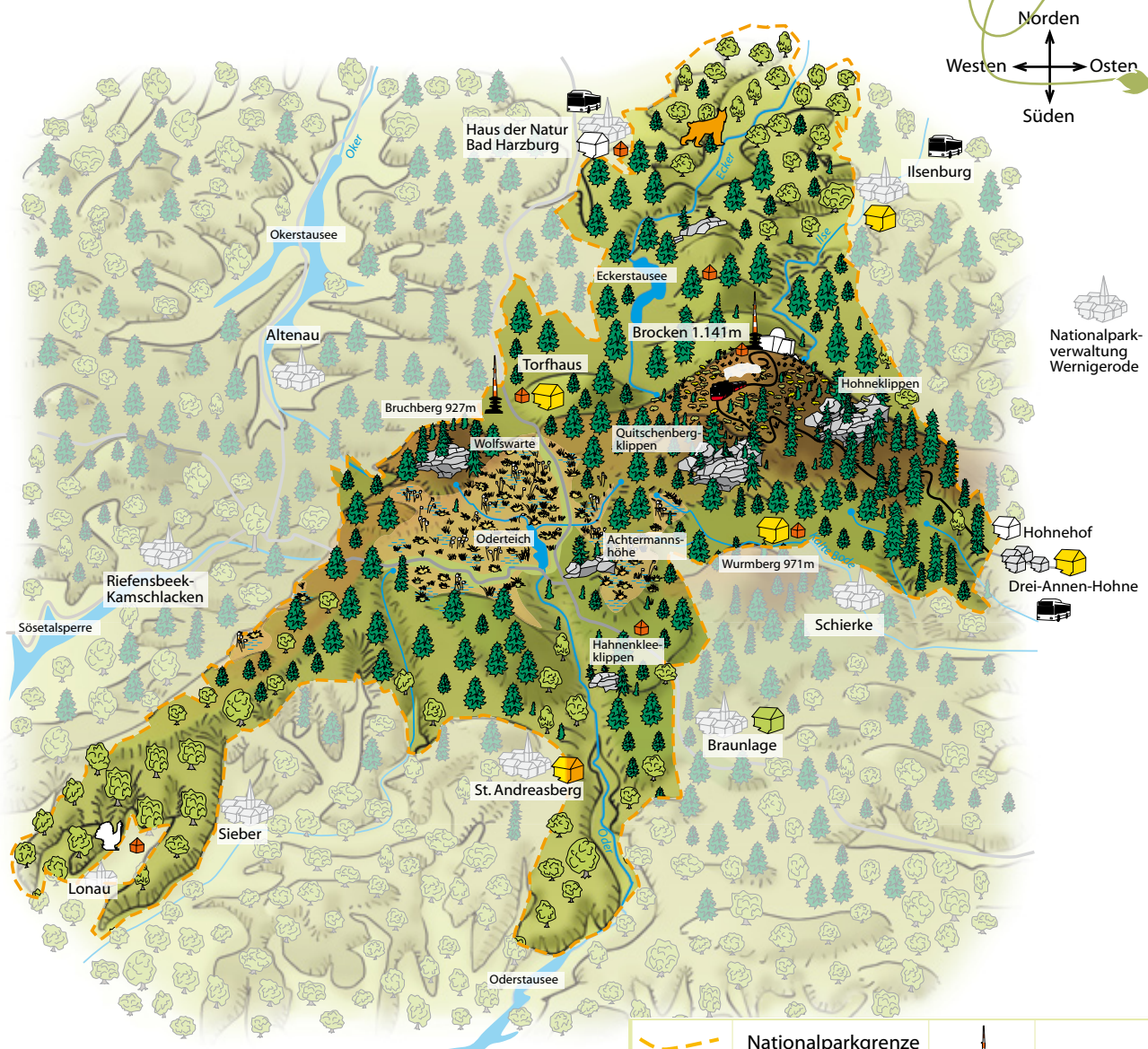
senkrecht

1. Klippen unterhalb des Brockens.
2. Berg im Nationalpark. 214 m niedriger als der Brocken.



Um die Natur nicht zu stören, solltest Du auf Deinen Wanderungen durch den Nationalpark die Wege nicht verlassen. Du möchtest aber gerne sehen, wie Wildnis oder ein Urwald eigentlich aussehen? Dann mach Dich auf die Wanderschaft und erkunde den Urwaldstieg oder den Wildnispfad.





Nationalparkverwaltung
Wernigerode

Hohenhof
Drei-Annen-Hohne

	Nationalparkgrenze		Sender am Brocken
	Brockenhaus		Brockenbahn
	Nationalparkhaus		Stausee
	Bildungszentrum		Bundesstraße
	Jugendwaldheim		Stadt, Ort
	Rangerstation		
	Erdgasbus		
	Luchs- / Auerhuhn-Gehege		

Wie heißen die drei höchsten Berge im und um den Nationalpark?

Wenn Du auf den Brocken wanderst, welche Baumart findest Du an der Waldgrenze?

- Buche
- Fichte
- Dattelpalme

Suche die Flüsse Ilse und Oder in der Karte - frage Deine Eltern oder schau im Atlas nach, in welche Flüsse sie münden und schließlich in welches Meer?

Ilse: Oker → A → W → _____ (Meer)

Oder: Rhu me → L → A → W → _____

- Finde das Wollgras in der Karte - in welchem Naturraum kommt es vor.
- Im Watt.
 - Im Moor.
 - In Fels- und Blockschutthalden.

